

























るーる
〈ルール〉

- ・あいているマスに、1から4までの数字のどれかが入ります。
- ・タテ、ヨコ、太線で囲まれたマスのどれにも、1から4までの数字が1つずつ入ります。

もんだい
問題

ぶいきちのマスをもつた数字がせばんごうの、とうれあろーず(じょし)のせんしゅだれでしょう？

	 8: 神原		 1: 嶋原	4			 9: 中田	
4								 1: 嶋原
			 9: 中田	 6: 村永				
 5: 内瀬戸		 1: 嶋原						
 8: 神原		 9: 中田				 3: 大野		 6: 村永
						 2: 堀川		 5: 内瀬戸
				 2: 堀川	 5: 内瀬戸			
 2: 堀川								 3: 大野
	 7: クラン			 9: 中田	 3: 大野			 8: 神原